

Реальная версия ЕНТ по математике 2021 года. Вариант 4272

При выполнении заданий с выбором ответа отметьте верные ответы.

Если вариант задан учителем, вы можете вписать или загрузить в систему ответы к заданиям с развернутым ответом. Учитель увидит результаты выполнения заданий с кратким ответом и сможет оценить загруженные ответы к заданиям с развернутым ответом. Выставленные учителем баллы отобразятся в вашей статистике.

1. Из 200 шаров — 16 красные. Из всех шаров красные составляют?

- 1) 16% 2) 18% 3) 6% 4) 12% 5) 8%

2. Решите уравнение: $4x^4 - 12x^2 + 9 = 0$.

- 1) $\sqrt{\frac{3}{2}}$ и $-\sqrt{\frac{3}{2}}$ 2) $\sqrt{\frac{1}{2}}$ и $-\sqrt{\frac{1}{2}}$ 3) $\frac{3}{4}$ и $-\frac{3}{4}$ 4) $\frac{9}{16}$ и $-\frac{9}{16}$ 5) $\frac{\sqrt{2}}{2}$ и $-\frac{\sqrt{2}}{2}$

3. Решите систему уравнений:
$$\begin{cases} 2x - 3y = -1, \\ \frac{y}{x} = 0,75. \end{cases}$$

- 1) (1; 5) 2) (0; -7) 3) (4; 3) 4) (3; 4) 5) (1; 3)

4. После наценки 35% цена изделия увеличилась на 196 тг. Найдите первоначальную цену изделия.

- 1) 630 тг 2) 720 тг 3) 840 тг 4) 560 тг 5) 540 тг

5. Найдите наименьшее решение неравенства $5^{3x-1} \geq 25$.

- 1) 0 2) 1 3) -2 4) 2 5) -1

6. Решите систему неравенств:
$$\begin{cases} \sqrt{x-1} < 3, \\ \sqrt{2x-4} > 0. \end{cases}$$

- 1) (-1; 2) 2) (2; 10) 3) (1, 6; 2, 5] 4) $[-\frac{1}{2}; 3)$ 5) (-1; 3]

7. Первый член арифметической прогрессии равен 5, разность прогрессии $d = -7$. Найдите количество членов данной арифметической прогрессии, если $a_n = -163$.

- 1) 36 2) 41 3) 25 4) 30 5) 33

8. Вычислите интеграл:
$$\int_{-5}^1 (x+2)^2 dx.$$

- 1) 23 2) -10 3) 15 4) 18 5) -15

9. Даны векторы: $\vec{a}(0; 5)$ и $\vec{b}(7; -1)$. Косинус угла между векторами $(\vec{a} + \vec{b})$ и $(\vec{a} - \vec{b})$ равен?

- 1) $\frac{5}{\sqrt{221}}$ 2) $\frac{\sqrt{2}}{10}$ 3) $\frac{\sqrt{2}}{5}$ 4) $-\frac{5}{\sqrt{221}}$ 5) $-\frac{\sqrt{3}}{10}$

10. Найдите объём куба, если площадь его полной поверхности равна 72 см^2 .

- 1) 216 см^3 . 2) $24\sqrt{3} \text{ см}^3$ 3) 126 см^3 . 4) $16\sqrt{3} \text{ см}^3$ 5) $12\sqrt{3} \text{ см}^3$

11. Сумма бесконечно убывающей геометрической прогрессии равна 32, а сумма ее первых пяти членов равна 31. Найдите первый член прогрессии.

- 1) 32 2) 16 3) 12 4) 24 5) 8

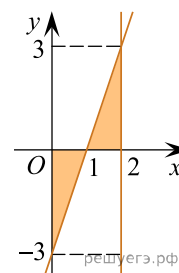
12. Число n составляет $p\%$ от числа a . Число a равно

- 1) $a = \frac{100p}{n}$ 2) $a = \frac{100}{np}$ 3) $a = \frac{100n}{2p}$ 4) $a = \frac{100p}{2n}$ 5) $a = \frac{100n}{p}$

13. Найдите наименьшее целое решение системы неравенств:
$$\begin{cases} 5 - \frac{2}{x+3} \geq 0, \\ \frac{4x-7}{2x+3} < 2 \end{cases}$$

- 1) -2 2) -1 3) 1 4) 2 5) 0

14. Найдите площадь заштрихованной фигуры (см. рис).



- 1) 1,5 кв. ед. 2) 3 кв. ед. 3) 9 кв. ед. 4) 6 кв. ед. 5) 4,5 кв. ед.

15. Косинус большего угла треугольника со сторонами 13 см, 14 см, 15 см равен?

- 1) $\frac{13}{15}$ 2) $\frac{2}{15}$ 3) $\frac{14}{15}$ 4) $\frac{5}{13}$ 5) $\frac{5}{14}$

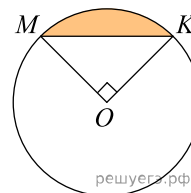
16. Значение произведения

$$\frac{x^2 + 3x + 2xy + 6y}{2x^2 + xy + 6x + 3y} \cdot \frac{6x^2 + 2x + 3xy + y}{xy - 2x + 2y^2 - 4y}$$

равно

- 1) $\frac{3x+1}{y-2}$ 2) $\frac{2x+y}{x+21}$ 3) $\frac{x+3}{2x+y}$ 4) $\frac{x+2y}{x+3}$ 5) $\frac{3x+1}{x-2y}$

17. В круге с центром в точке O и радиусом 4 угол $МОК$ равен 90° . Площадь закрашенной части круга равна



- 1) $8(\pi - 1)$ 2) $4(\pi - 2)$ 3) $4(\pi - 4)$ 4) $8(\pi - 2)$ 5) $2(\pi - 4)$

18. Турист прошел 6 км, поднимаясь в гору, и 3 км по спуску с горы, затратив на весь путь 2 часа. Скорость на спуске на 2 км/ч больше скорости на подъеме. Определите, сколько времени турист потратит на обратный путь, если скорости на спуске и на подъеме останутся прежними.

- 1) 1,75 ч 2) 1,6 ч 3) 2 ч 4) 1,25 ч 5) 1,5 ч


19. Решите систему неравенств:
$$\begin{cases} \sqrt{x-6} \cdot \sqrt{x-12} < x-1, \\ 2x-3 < 33. \end{cases}$$

- 1) (12; 18) 2) [12; 18) 3) [12; 20) 4) [12; 18] 5) (12; 18]

20. В правильной треугольной пирамиде боковое ребро равно 4 см, а сторона основания — 6 см. Найдите объём пирамиды.

- 1) $5\sqrt{3}$ см³ 2) $7\sqrt{3}$ см³ 3) $6\sqrt{3}$ см³ 4) $8\sqrt{3}$ см³ 5) $9\sqrt{3}$ см³

Торт в форме цилиндра. Высота торта 20 см. Диаметр 30 см. Средняя плотность торта 0,4 г/см³.



21. Чтобы разрезать торт провели пять диаметров и получили?

- 1) 12 кусочков 2) 6 кусочков 3) 10 кусочков 4) 9 кусочков 5) 5 кусочков

22. Найдите объём всего торта ($\pi \approx 3$).

- 1) 15 500 см³ 2) 14 000 см³ 3) 13 500 см³ 4) 13 000 см³ 5) 12 500 см³

23. Для упаковки тортов фабрика изготавливает коробки в виде прямоугольного параллелепипеда. Для данного торта нужно изготовить коробку объём которой равен?

- 1) $1,8 \cdot 10^4$ см³ 2) $1,6 \cdot 10^4$ см³ 3) $1,8 \cdot 10^3$ см³ 4) $9 \cdot 10^4$ см³
5) $1,6 \cdot 10^3$ см³

24. Торт разделён шестью диаметрами на кусочки равной величины. Найдите массу каждого кусочка, если средняя плотность торта 0,4 г/см³.

- 1) 450 г 2) 300 г 3) 250 г 4) 350 г 5) 400 г

25. Если $\frac{1}{12}$ часть торта поместить в прямоугольный контейнер размерами 12 см × 10 см × 10 см. Какой объём контейнера окажется незаполненным?

- 1) 70 см³ 2) 80 см³ 3) 65 см³ 4) 85 см³ 5) 75 см³

26. Из нижеперечисленных ответов укажите те, 35% которых являются целым числом.

- 1) 50 2) 60 3) 40 4) 30 5) 90 6) 20 7) 70 8) 10

27. Корнями уравнения $(x-1)(5^x-1)(x+1)(5^x+1) = 0$ являются

- 1) -5 2) -1 3) 1 4) 3 5) -4 6) 0 7) 5 8) 4

28. Выберите из ниже предложенных ответов значения выражения $\frac{x}{y}$, где $(x_n; y_n)$ — решения системы уравнений

$$\begin{cases} x + y + xy = 11, \\ x + y + 1 = xy. \end{cases}$$

- 1) 4 2) $\frac{3}{5}$ 3) $\frac{1}{4}$ 4) $\frac{3}{2}$ 5) $-\frac{1}{2}$ 6) -2 7) $\frac{2}{3}$ 8) $\frac{5}{3}$

29. За три часа бульдозер разровнял 3 км² асфальта. Из предложенных ответов укажите площадь, соответствующую его производительности в течение 5 часов.

- 1) 11 км^2 2) 9 км^2 3) 4 км^2 4) 7 км^2 5) 8 км^2 6) 10 км^2 7) 5 км^2 8) 6 км^2

30. Решением неравенства $13x - 15 \leq 2x^2$ является промежуток?

- 1) $\left(-\infty; \frac{3}{2}\right] \cup [5; +\infty)$ 2) $(-\infty; -5) \cup \left(\frac{3}{2}; +\infty\right)$ 3) $\left(-\infty; -\frac{3}{2}\right) \cup (5; +\infty)$
 4) $\left[\frac{3}{2}; 5\right]$ 5) $(-\infty; -5] \cup \left[\frac{3}{2}; +\infty\right)$ 6) $\left(-\infty; -\frac{3}{2}\right] \cup [5; +\infty)$ 7) $\left(\frac{3}{2}; 5\right)$
 8) $\left(-\infty; \frac{3}{2}\right) \cup (5; +\infty)$

31. Найдите числовые промежутки, которым принадлежит значение выражения $\left(\frac{1}{x} + \frac{1}{y}\right)$, где $(x; y)$ — решение системы уравнений $\begin{cases} x - y = 4, \\ 3^x \cdot 3^y = 27. \end{cases}$

- 1) $(2; +\infty)$ 2) $\left(\frac{1}{2}; \frac{7}{2}\right)$ 3) $(-3; 3)$ 4) $(-0,5; 2)$ 5) $(-1; 2)$ 6) $(-\infty; 2]$
 7) $[-2; 2]$ 8) $(-\infty; -2)$

32. Найдите производную функции: $y = \lg \frac{15 - x}{x + 6}$.

- 1) $\frac{21}{(x^2 + 9x - 90) \ln 10}$ 2) $\frac{10}{(x + 6)(x - 15) \ln 21}$ 3) $\frac{21}{(x^2 - 9x + 90) \ln 10}$
 4) $\frac{21}{(x + 6)(x - 15) \ln 10}$ 5) $\frac{21}{(x + 15)(x - 6) \ln 10}$ 6) $\frac{21}{(x^2 - 9x - 90) \ln 10}$
 7) $\frac{21}{(x^2 + 9x + 90) \ln 10}$ 8) $\frac{10}{(x^2 - 9x - 90) \ln 21}$

33. Одна из диагоналей параллелограмма перпендикулярна стороне. Найдите эту диагональ и площадь параллелограмма, если его периметр равен 16 см, а разность смежных сторон равна 2 см.

- 1) 36 см^2 2) 80 см^2 3) 13 см 4) 5 см 5) 4 см 6) 12 см 7) 12 см^2 8) 6 см^2

34. Материальная точка движется со скоростью $v(t) = 1 - 2 \sin^2 t$. Найдите интервал, в который входит значение пути, пройденного материальной точкой за промежуток времени от $t = 0$ до $t = 0,25\pi$.

- 1) $[1; 1,5)$ 2) $[-1; -0,5]$ 3) $[-1; 0]$ 4) $(-0,75; 0,75)$ 5) $[-1; -0,25]$
 6) $[0; 1,5)$ 7) $(0,5; 1)$ 8) $(0,5; 1,25]$

35. Основанием прямой призмы служит равнобедренная трапеция $ABCD$ со сторонами $AB = CD = 13 \text{ см}$, $BC = 11 \text{ см}$, $AD = 21 \text{ см}$. Площадь ее диагонального сечения равна 180 см^2 . Найдите площадь полной поверхности призмы.

- 1) 522 см^2 2) 256 см^2 3) 144 см^2 4) 1528 см^2 5) 1728 см^2 6) 129 см^2 7) 192 см^2
 8) 906 см^2